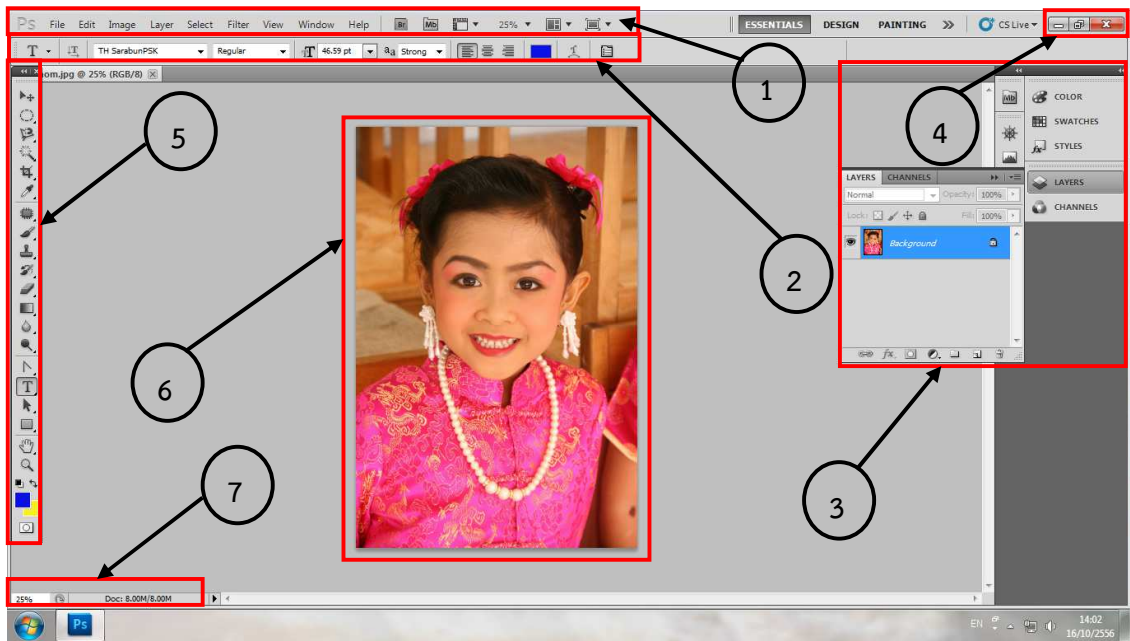


ใบงานที่ 2.2
















องค์ประกอบของโปรแกรม Photoshop CS5

1. จงบอกชื่อและหน้าที่ส่วนประกอบของโปรแกรม Photoshop CS5 ให้ถูกต้อง



- 1.1 หมายเลข 1 หน้าที่
- 1.2 หมายเลข 2 หน้าที่
- 1.3 หมายเลข 3 หน้าที่
- 1.4 หมายเลข 4 หน้าที่
- 1.5 หมายเลข 5 หน้าที่
- 1.6 หมายเลข 6 หน้าที่
- 1.7 หมายเลข 7 หน้าที่

2. จงบอกชื่อและหน้าที่แถบเครื่องมือ (Tools) ให้ถูกต้อง.

- | | | | |
|-----|---|------------|---------------|
| 1. |  | ชื่อ | หน้าที่ |
| 2. |  | ชื่อ | หน้าที่ |
| 3. |  | ชื่อ | หน้าที่ |
| 4. |  | ชื่อ | หน้าที่ |
| 5. |  | ชื่อ | หน้าที่ |
| 6. |  | ชื่อ | หน้าที่ |
| 7. |  | ชื่อ | หน้าที่ |
| 8. |  | ชื่อ | หน้าที่ |
| 9. |  | ชื่อ | หน้าที่ |
| 10. |  | ชื่อ | หน้าที่ |
| 11. |  | ชื่อ | หน้าที่ |
| 12. |  | ชื่อ | หน้าที่ |
| 13. |  | ชื่อ | หน้าที่ |
| 14. |  | ชื่อ | หน้าที่ |
| 15. |  | ชื่อ | หน้าที่ |